

Prezenta lucrare conține _____ pagini

**EVALUAREA NAȚIONALĂ PENTRU
ABSOLVENȚII CLASEI a VIII-a**

Anul școlar 2024 – 2025

Matematică

Numele:.....
.....
Inițiala prenumelui tatălui:
Prenumele:.....
.....
Școala de
proveniență:
.....
Centrul de examen:
Localitatea:
Județul:

Nume și prenume asistent	Semnătura

A	COMISIA DE EVALUARE	NOTA (CIFRE ȘI LITERE)	NUMELE ȘI PRENUMELE PROFESORULUI	SEMNĂTURA
	EVALUATOR I			
	EVALUATOR II			
	EVALUATOR III			
	EVALUATOR IV			
	NOTA FINALĂ			

B	COMISIA DE EVALUARE	NOTA (CIFRE ȘI LITERE)	NUMELE ȘI PRENUMELE PROFESORULUI	SEMNĂTURA
	EVALUATOR I			
	EVALUATOR II			
	EVALUATOR III			
	EVALUATOR IV			
	NOTA FINALĂ			

C	COMISIA DE EVALUARE	NOTA (CIFRE ȘI LITERE)	NUMELE ȘI PRENUMELE PROFESORULUI	SEMNĂTURA
	EVALUATOR I			
	EVALUATOR II			
	EVALUATOR III			
	EVALUATOR IV			
	NOTA FINALĂ			

- Toate subiectele sunt obligatorii.
- Se acordă zece puncte din oficiu.
- Timpul de lucru efectiv este de două ore.

SUBIECTUL I

Încercuiește litera corespunzătoare răspunsului corect.

(30 de puncte)

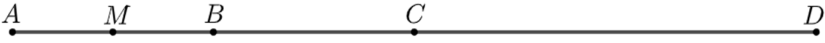
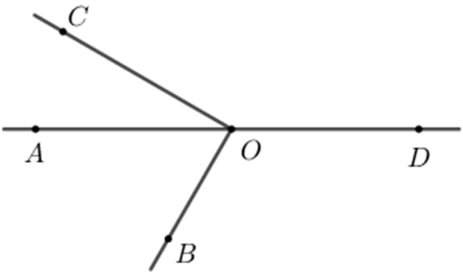
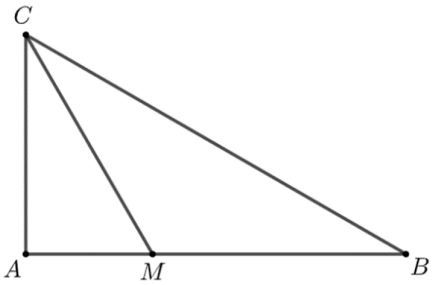
5p	1. Rezultatul calculului $(40 + 2 \cdot 5) : 5$ este: a) 6 b) 10 c) 38 d) 42
5p	2. Dacă $\frac{x}{9} = \frac{2}{3}$, atunci numărul x este egal cu: a) $\frac{27}{2}$ b) 6 c) 2 d) $\frac{1}{6}$
5p	3. Se consideră mulțimile $A = \{0, 1, 2, 3, 4, 5\}$ și $B = \{2, 4, 6, 8\}$. Reuniunea mulțimilor A și B este mulțimea: a) $\{2, 4\}$ b) $\{0, 1, 3, 5\}$ c) $\{1, 2, 3, 4, 5, 6, 8\}$ d) $\{0, 1, 2, 3, 4, 5, 6, 8\}$
5p	4. Scrierea sub formă de fracție zecimală a fracției $\frac{5}{6}$ este: a) 0,8 b) 0,83 c) $0,8(3)$ d) $0,(83)$

5p	5. Patru elevi, Alina, Bogdan, Corina și Dan, au calculat media aritmetică a numerelor $a = \sqrt{3^2 + 4^2}$ și $b = 45$. Răspunsurile date de cei patru elevi sunt prezentate în tabelul de mai jos:							
	<table border="1"> <thead> <tr> <th>Alina</th> <th>Bogdan</th> <th>Corina</th> <th>Dan</th> </tr> </thead> <tbody> <tr> <td>15</td> <td>25</td> <td>26</td> <td>50</td> </tr> </tbody> </table> <p>Rezultatul corect a fost obținut de către:</p> <p>a) Alina b) Bogdan c) Corina d) Dan</p>	Alina	Bogdan	Corina	Dan	15	25	26
Alina	Bogdan	Corina	Dan					
15	25	26	50					
5p	6. Se consideră numărul real $a = 11 - 5\sqrt{5}$. Enunțul „Numărul real a este pozitiv.” este:							
	a) adevărat b) fals							

SUBIECTUL al II-lea

Încercuiește litera corespunzătoare răspunsului corect.

(30 de puncte)

5p	1. În figura alăturată punctele A , B , C și D sunt coliniare, în această ordine, astfel încât $AC = 2 \cdot AB$ și $AD = 2 \cdot AC$. Punctul M este mijlocul segmentului AB și $AM = 2$ cm. Lungimea segmentului MD este egală cu:
	<p>a) 4 cm b) 6 cm c) 14 cm d) 16 cm</p> 
5p	2. În figura alăturată punctele A , O și D sunt coliniare, unghiul BOC este drept, iar măsura unghiului AOC este egală cu 30° . Măsura unghiului BOD este egală cu:
	<p>a) 120° b) 130° c) 150° d) 180°</p> 
5p	3. În figura alăturată este reprezentat triunghiul ABC dreptunghic în A , cu măsura unghiului ACB egală cu 60° . Semidreapta CM este bisectoarea unghiului ACB și $CM = 8$ cm. Lungimea laturii AB este egală cu:
	<p>a) $4\sqrt{3}$ cm b) 8 cm c) 12 cm d) $8\sqrt{3}$ cm</p> 

(3p) b) Determină lungimea pistei construite de echipă în cele trei zile.

5p

2. Se consideră expresia $E(x) = \left(\frac{x+4}{x-3} - \frac{x-3}{x+4} + \frac{49}{x^2+x-12} \right) : \frac{7}{x-3}$, unde x este număr real, $x \neq -4$ și $x \neq 3$.

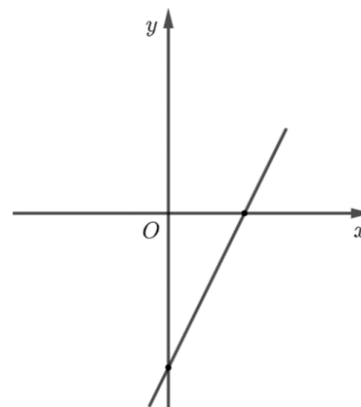

(2p) a) Arată că $x^2 + x - 12 = (x-3)(x+4)$, pentru orice număr real x .

(3p) b) Arată că numărul $N = \sqrt{E(2) + E(4) + E(6) + \dots + E(16)}$ este natural.


5p

3. Se consideră funcția $f : \mathbb{R} \rightarrow \mathbb{R}$, $f(x) = 2x - 6$.

(2p) a) Arată că $f(3) \cdot f(2025) = 0$.

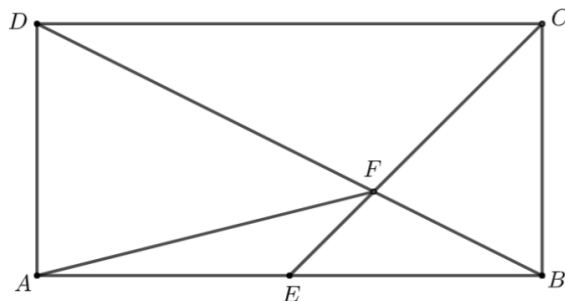



(3p) b) Reprezentarea geometrică a graficului funcției f intersectează axele Ox și Oy ale sistemului de axe ortogonale xOy în punctele A , respectiv B . Determină aria triunghiului ABM , unde punctul M este simetricul punctului A față de punctul O .




5p 4. În figura alăturată este reprezentat dreptunghiul $ABCD$, cu $AB = 12\text{ cm}$ și $BC = 6\text{ cm}$. Bisectoarea unghiului BCD intersectează latura AB în punctul E și diagonala BD în punctul F .

(2p) a) Arată că perimetrul dreptunghiului $ABCD$ este egal cu 36 cm .

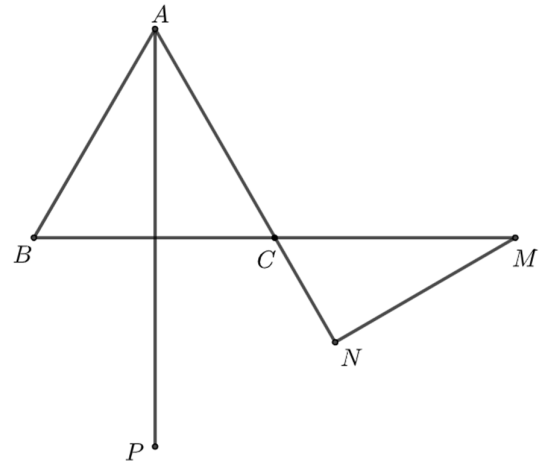



(3p) b) Calculează lungimea segmentului AF .




5p 5. În figura alăturată este reprezentat triunghiul echilateral ABC cu $AB = 6$ cm. Punctele B , C și M sunt coliniare și punctul C este mijlocul segmentului BM . Punctul N este proiecția punctului M pe dreapta AC , iar dreapta BC este mediatoarea segmentului AP .

(2p) a) Arată că lungimea segmentului NC este egală cu 3 cm.

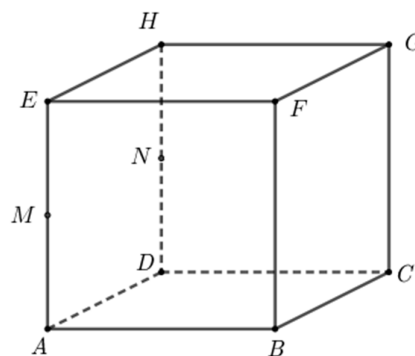



(3p) b) Demonstrează că punctele M , N și P sunt coliniare.



5p 6. În figura alăturată este reprezentat cubul $ABCDEFGH$ cu $AB = 6\text{ cm}$. Punctele M și N sunt mijloacele muchiilor AE și DH .

(2p) a) Arată că volumul cubului $ABCDEFGH$ este egal cu 216 cm^3 .



(3p) b) Calculează distanța de la punctul H la planul (CMN) .

